

**Протокол результатов участников муниципального этапа  
всероссийской олимпиады школьников 2023/2024 учебного года**

**по географии**

(название предмета)

**Кировский муниципальный район**

(наименование субъекта Российской Федерации)

№ п/п	Фамилия, имя, отчество	Код участника	Наименование образовательной организации	Класс обучения	Результат (баллы)	Статус (победитель / призер / участник)
1	2	3	4	5	6	7
<b>7 класс</b>						
1 ✓	Вологин Глеб Максимович	гео7-1	МБОУ "СОШ № 1 пгт. Кировский"	7	17	участник
2 ✓	Залозная Алина Александровна	гео-7-2		7	41,25	участник
3 ✓	Изгаршева Дарья Сергеевна	гео-7-3		7	37	участник
4 ✓	Петрова Ульяна Юрьевна	гео-7-4		7	16	участник
5 ✓	Карпенко Тимофей Романович	гео-7-5		7	32,25	участник
6	Куценко М	гео-7-6	МБОУ "СОШ № 2 пгт. Кировский"	7		
7	Сухих А	гео-7-7		7		
8	Болсуновская С	гео-7-8		7	20	участник
9	Руднева В	гео-7-9		7	18,1	участник
10	Русаков А	гео-7-10	МБОУ "СОШ кп. Горные Ключи"	7	31	участник
<b>8 класс</b>						
1	Максим Кузьмин Роман	гео-8-1	МБОУ "СОШ № 2 пгт. Кировский"	8	15	участник
2	Лукашевич Кирилл	гео-8-2		8	15	участник
3	Голубев Трофим	гео-8-3		8	16	участник
4	Козак Виолета	гео-8-4		8	14	участник

5	Безугленко Евгения Вячеславовна	гео-8-5	МБОУ "СОШ № 1 пгт. Кировский"	8	32	участвует
5	Давыдова Ксения Анатольевна	гео-8-6		8	31	участвует
7	Льмарь Ульяна Викторовна	гео-8-7		8	48	участвует
8	Мойсейченко Е.Ю.	гео-8-8		8	26	участвует
9	Морозова В	гео-8-9	МБОУ "СОШ кп. Горные Ключи"	8	12	участвует
10	Алаторцев М	гео-8-10		8	22	участвует
11	Ощепкова А	гео-8-11		8	-	
12	Бояркина Д	гео-8-12		8	9	участвует
13 12	Власенко	гео-8-13	Участвует 9 класс	8	14	участвует
1	Алимова Дарья Дмитриевна	гео-9-1	МБОУ "СОШ № 1 пгт. Кировский"	9	37	участвует
2	Бекетова Ульяна Николаевна	гео-9-2		9	35	участвует
3	Братко Елизавета Юрьевна	гео-9-3		9	19	участвует
4	Кучер Ирина Дмитриевна	гео-9-4		9	-	
5	Мельник Александр Константинович	гео-9-5		9	-	
6	Михалько Александра Андреевна	гео-9-6		9	17	участвует
7	Щербакова София Игоревна	гео-9-7		9	-	
8	Акишина Диана Анатольевна	гео-9-8		9	11	участвует
9	Швандюра Юлия Александровна	гео-9-9		9	39	участвует
10	Исаева Н	гео-9-10	МБОУ "СОШ кп. Горные Ключи"	9	35	участвует
11	Михеева Э	гео-9-11		9	27	участвует
12	Малкина А	гео-9-12		9	-	
13	Пискунова С	гео-9-13		9	18	участвует
14	Пиковой А	гео-9-14		9	29	участвует
15	Дремо М	гео-9-15	МБОУ "СОШ № 2 пгт. Кировский"	9	31	участвует
16	Заика Виктория	гео-9-16		9	-	
17	Михальченко А	гео-9-17		9	17	участвует

8	Манькова Р	гео-9-18		9	29	участвует
19	Андрющенко	гео-9-19		9	31	участвует
<b>10 класс</b>						
1	Шишкина Варвара Евгеньевна	гео-10-1	МБОУ "СОШ № 1 пгт. Кировский"	10	35	участвует
2	Никутьшин М	гео-10-2	МБОУ "СОШ № 2 пгт. Кировский"	10	31,5	участвует
3	Стадников А	гео-10-3		10	33	участвует
4	Люшко Д	гео-10-4	МБОУ "СОШ кп. Горные Ключи"	10	25	участвует
5	Собкович А	гео-10-5		10	—	
6	Матвиенко А	гео-10-6		10	35	участвует
<b>11 класс</b>						
1	Фокин Богдан	гео-11-1	МБОУ "СОШ № 2 пгт. Кировский"	11	—	
3	Ведюн Сергей Витальевич	гео-11-3	МБОУ "СОШ № 1 пгт. Кировский"	11	19	участвует
7	Чернышёв Павел	гео-11-7	МБОУ "СОШ кп. Горные Ключи"	11	46,5	участвует
8	Кузнецова К	гео-11-8		11	53	присутствует
10	Кузилов И	гео-11-10		11	—	
11	Русаков А	гео-11-11		11	—	

Председатель жюри

(ФИО полностью)

(подпись)

Щеглов Анатолия Николаевна  
 Колоса Виктория Владимировна  
 Мамарь Оксана Владимировна

ГЕО-11-8

Министерство образования Приморского края  
Государственное автономное учреждение  
дополнительного профессионального образования  
«Приморский краевой институт развития образования»

53

Задания муниципального этапа  
Всероссийской олимпиады школьников по географии  
для 11 класса  
2023–2024 учебный год

### Теоретический тур

Уважаемый участник олимпиады!

Время выполнения заданий теоретического тура **90 минут**.

Выполнение теоретических (письменных) заданий целесообразно организовать следующим образом:

- не спеша, внимательно прочитайте задание и определите, наиболее верный и полный ответ;
- если Вы отвечаете на задание, связанное с заполнением таблицы ответов, то старайтесь вписывать в нее только те сведения или данные, которые указаны в вопросе;
- после выполнения всех предложенных заданий еще раз удостоверьтесь в правильности выбранных Вами ответов и решений.

При ответе на задания **запрещено** пользоваться учебниками, школьными и прочими атласами,

**Максимальная оценка – 70 баллов**

**Задание 1.** Найдите ошибку в логических рядах географических понятий и географических объектов России и мира. Объясните причину выбора «ошибки». Ответы впишите в таблицу.

1. «алмазы» – «мрамор» – «сланцы» – «известняк» – «диатомит»
2. «Ханка» – «Ильмень» – «Баскунчак» – «Телецкое озеро» – «Таймыр»
3. «арктическая пустыня» – «тундра» – «тайга» – «степь» – «пустыня»
4. «сквозница» – «новороссийская бора» – «баргузин» – «шарман» – «гарматный»

Номер ряда	Ошибка в логическом ряду	Причина «ошибки»
1	диатомит	не форма порода

2	Тилеукое	пресноводное
3	Майма +	далека от пустынь, есть каналы
4	Барузын +	река

Максимальное количество – 12 баллов

**Задание 2.** Изучите структуру сбора зерновых культур в некоторых странах мира. Определите каким странам соответствуют цифровые индексы 1–6. Объясните, какими причинами обусловлена сельскохозяйственная специализация, сложившаяся в этих странах. Ответы впишите в таблицу.

**Список стран:** Казахстан, Россия, Таиланд, Чехия, Мексика, Нигер.

Страна	Структура урожая зерновых культур, %						Причины
	Пшеница	Рис	Кукуруза	Ячмень	Просо, сорго	Другие	
1	10	1	62	2	23	2	
2	58	1	11	20	1	9	
3	-	1,7	0,5	-	98	0,1	
4	76	2	4	14	-	4	Россия
5	-	86	13	0,1	0,1	0,7	

6	63	-	7	23	0,01	7	
---	----	---	---	----	------	---	--

Максимальное количество – 18 баллов

**Задание 3.** Определите страну по контурам. Назовите её столицу. Установите соответствие фактов, приведенных для каждой страны: указаны под буквенными индексами А, Б, В, Г, Д, Е, Ж, З, И, К.

**Список стран:** Хорватия, Румыния, Италия, Венгрия, Финляндия, Португалия, Исландия, Испания, Польша, Норвегия

**Факты о странах:**

**А.** В административном отношении страна делится на воеводства.

**Б.** Здесь жил знаменитый граф Влад Дракула. *Румыния*

**В.** Внутри территории страны находятся два суверенных государства.

**Г.** Здесь находится озеро Балатон.

**Д.** На языке этой страны говорит большая часть населения Центральной и Южной Америки.

**Е.** Это страна вулканов.

**Ж.** Это родина Санта-Клауса и страна «тысячи озёр».

**З.** Эта страна известна пещерами, теплым морем и собаками далматинской породы.

**И.** Здесь самые длинные и глубокие фиорды в Европе.



**К.** Эта страна первая начала колониальные захваты и, возродила в Европе рабство (XV в.)







Ответы впишите в таблицу:

0,5

0,5

1

Контур страны (без учета масштаба)	Страна	Столица	Буквенный индекс
	<i>Италия</i> +	<i>Рим</i> +	<i>В</i> <i>Ж</i>
	<i>Испания</i> +	<i>Мадрид</i> +	<i>Д</i> ...

	Норвегия +	Осло +	И + 1
	Португалия 0,5	Лиссабон 0,5	К 1
	Финляндия 0,5	Хельсинки 0,5	Ж
	Греция 0,5	Афины 0,5	Г
	Румыния 0,5	Бухарест 0,5	Б 1
	Польша 0,5	Варшава 0,5	А
	Хорватия 0,5	Загреб 0,5	З 1
	Исландия 0,5	Рейкьявик 0,5	Е 1

Максимальное количество – 20 баллов

165.

**Задание 4.** Определите пропущенные слова под номерами в скобках и впишите их в таблицу.

В середине XVII в. благодаря русским землепроходцам (1) и (2), было открыто и завоевано Приамурье. Первым русским, побывавшим в Приморье, стал Онуфрий Степанов, который с отрядом казаков прошёл по реке Уссури. Однако Россия, потеряв по Нерчинскому договору Приамурье, с 1689 г. лишилась возможности осваивать и Приморье.

В 1787 г. известный французский мореплаватель (3) открыл северо-восточное побережье Приморья, назвав одну из бухту в честь своего учителя. Сейчас это имя носит населенный пункт, который является центром одного из административных районов Приморья – (4).

В 1805 г. знаменитый мореплаватель – участник первой российской кругосветной экспедиции (5) на шлюпе (6) побывал в Японском море. Он ошибочно принял остров (7) за полуостров.

В 1854 г. первая Русская морская экспедиция у берегов Приморья выполняла дипломатическую миссию в Японию. Экспедицию возглавлял адмирал (8). В его честь назван один из крупных островов у берегов Приморья. Эта экспедиция на фрегате (9) и шхуне «Восток» открыла и описала побережье и острова юго-западного Приморья. Имя фрегата получило современное парусное судно, приписанное к порту Владивосток. А в честь командира шхуны, брата известного русского композитора, были названы острова (10).

В 1858 г. генерал-губернатор Восточной Сибири (11) заключил с Китаем Айгунский договор, вернув России Приамурье. За это достижение он был пожалован титулом графа (12). На южной оконечности полуострова, названного в честь генерал-губернатора, сейчас располагается город (13). Между тем, Айгунский договор не определил судьбу Приморья, на которое претендовали Россия и Китай.

В 1858–1860 гг. территорию Приморья исследовали несколько русских экспедиций. В 1858 г. путешественник и географ (14) впервые пересек хребет Сихотэ-Алинь. Русский натуралист Р.К. Маак исследовал район р. Уссури и оз. Ханка. В честь него были названы самая крупная в России бабочка (парусник или хвостоносец Маака) и дерево (маакия амурская), встречающиеся в Приморье. Ботаник К.И. Максимович описал почти тысячу новых растений Приморья и Приамурья. В ходе этих и других экспедиций было установлено, что территория Приморья не управляется китайскими властями. Это дало возможность подготовить и вскоре заключить с Китаем договоры о присоединении Приморья к России.

В 1867–69 гг. Приморье исследовал (15). По собранным материалам он написал книгу «Путешествие в Уссурийском крае». Впоследствии этот знаменитый путешественник исследовал район Азии (16).



Самые длительные по времени и детальные исследования в Приморье были проведены путешественником, географом, этнографом и писателем (17). Его именем названы несколько объектов на карте Приморского края: река (18) и город (19). В честь проводника, сопровождавшего путешественника, названо село в Приморском крае (20).

1	Кабалевский Е. Я.	11	Муравьев-Амурский Н.
2	Позиков В.	12	Муравьев-Амурский
3	Хак Франца Майо	13	Владивосток
4	Дальневосток	14	Амурский Н. М.
5	Иван Крузенштерн. 1	15	Лунинский Н. М.
6	Эриксон	16	Центральная
7	Саламин Е. В. 1	17	Кильдин В.
8	Лутатин 1	18	Уссури
9	<del>Палла</del> Кадмус 1	19	Кильдино
10	Билузов М.	20	Лунинское

Максимальное количество – 20 баллов

95.

## Тестовый тур

Уважаемый участник олимпиады!

Время выполнения заданий тестового тура **45 минут**.

Выполнение тестовых заданий целесообразно организовать следующим образом:

- не спеша, внимательно прочитайте тестовое задание;
- определите, какой из предложенных вариантов ответа верный;
- напишите букву, соответствующую выбранному Вами ответу, в Таблицу ниже;
- после выполнения всех предложенных заданий еще раз удостоверьтесь в правильности Ваших ответов;
- если потребуется корректировка выбранного Вами варианта ответа, то неправильный вариант ответа зачеркните крестиком, и рядом напишите новый.

При ответе на тестовые задания **запрещено** пользоваться учебниками, школьными и прочими атласами, а также справочными материалами.

**Максимальная оценка – 30 баллов**

1. Регион, который из-за своей значительной протяжённости с запада на восток находится сразу в трёх часовых поясах

- А. Красноярский край
- +  Б. Якутия
- В. Тюменская область
- Г. Ямало-Ненецкий автономный округ

2. Незамерзающий порт в России:

- +  А. Мурманск
- Б. Ванино
- В. Архангельск
- Г. Магадан

3. Единственный в мире минералогический заповедник, один из старейших заповедников России

- А. Сихотэ-Алинский
- Б. Башкирский
- В. Баргузинский
- +  Г. Ильменский

4. Португальский язык не является официальным языком в:

- А. Анголе
- В. Гвинея-Бисау
- В. Мозамбике
- Г. Намибии +

5. Впервые к берегу Тихого океана русские землепроходцы вышли в:

- А. 1520-е гг.
- Б. 1630-е гг.
- В. 1740-е гг. +
- Г. 1810-е гг.

6. Россия не имеет сухопутной границы с:

- А. Арменией
- Б. Азербайджаном +
- В. Казахстаном
- Г. Норвегией

7. Наибольшей наукоемкостью отличается:

- А. топливная промышленность
- Б. черная металлургия
- В. химическая промышленность +
- Г. пищевая промышленность

8. В соответствии с Конституцией России право устанавливать официальные языки имеют:

- А. республики +
- Б. автономные округа
- В. края
- Г. автономные области

9. Правильный вариант соответствия - страна / экспортируемый товар:

- А. Танзания - хлопков +
- Б. Кувейт - лимоны
- В. Мексика - чай
- Г. Кения - шерсть

10. Самая многонаселённая страна в Европе:

- А. Франция
- Б. Испания
- В. Германия
- Г. Польша



11. По территории России протекает:

- А. Днепр
- Б. Днестр
- В. Дунай
- Г. Дарлинг



12. К месторождениям природного газа относится:

- А. Ямбург
- Б. Ковдор
- В. Самотлор
- Г. Качканар



13. Выбрать вариант, где представлены столицы азиатских государств

- А. Лиссабон, Катманду
- Б. Улан-Батор, Скопье
- В. Магауа, Дакка
- Г. Токио, Анкара

14. Крупным центром черной металлургии в России является:

- А. Липецк
- Б. Воронеж
- В. Пермь
- Г. Магадан



15. Крупнейший принадлежащий России остров в Тихом океане:

- А. Врангеля
- Б. Итуруп
- В. Сахалин
- Г. Вайгач



16. Главной отраслью обрабатывающей промышленности на Дальнем Востоке является:

- А. Машиностроение
- Б. Химическая
- В. Текстильная
- Г. Мукомольная

+

17. Самый северный из действующих космодромов мира находится в российском регионе:

- А. Вологодская область
- Б. Пермский край
- В. Архангельская область
- Г. Амурская область

+

18. Самый южный из городов-миллионеров России:

- А. Волгоград
- Б. Ростов-на-Дону
- В. Саратов
- Г. Самара

+

19. «Сила Сибири» — это:

- А. Железнодорожная магистраль
- Б. Нефтепровод
- В. Газопровод
- Г. Внутренний водный путь

+

20. Гидроэлектростанции играют основную роль в выработке электроэнергии в:

- А. Китае
- Б. России
- В. Франции
- Г. Бразилии

21. Самый высокий уровень освоения земельных ресурсов в:

- А. Африке
- Б. Европе
- В. Австралии
- Г. Южной Америке

22. В расчете на душу населения пашней наиболее обеспечена:

- А. Канада
- Б. Индия
- В. Франция
- Г. Бангладеш

23. По численности населения Россию превосходит

- А. Япония
- Б. Индонезия 244 500 000
- В. Мексика 135 000 000
- Г. Египет

24. К числу федеративных государств относится:

- А. Япония
- Б. Ирландия
- В. Австралия
- Г. Китай

25. Крайняя материковая точка России, которая находится в Западном полушарии:

- А. мыс Дежнёва
- Б. мыс Челюскин
- В. Балтийская коса
- Г. остров Ратманова

26. Самый восточный город России:

- А. Певек
- Б. Владивосток
- В. Магадан
- Г. Анадырь

27. Крупнейший в России центр медно-никелевого производства:

- А. Мончегорск
- Б. Норильск
- В. Удокан
- Г. Красноуральск

28. Лишний объект в логической цепочке, связанной с видом минерального ресурса:

- А. Удоканское *нефть*
- Б. Ямбургское
- В. Медвежье *газ*
- Г. Оренбургское

29. Самая южная точка Приморского края находится в нижнем течении реки:

- А. Самарга
- Б. Барабашевка
- В. Раздольная
- Г. Туманная

30. Российский город (из числа городов «Золотого кольца России»), на гербе которого изображён медведь с секирой

- А. Суздаль
- Б. Ярославль
- В. Владимир
- Г. Кострома

Ответы впишите в таблицу:

№ вопроса	Ответ
1	Б ✖
2	А +
3	Г +
4	Г ✖
5	Б +
6	А +
7	В +
8	А +
9	А +
10	В +
11	А +
12	Б .
13	Г +
14	А +
15	В +
16	А +
17	В +
18	Б +
19	В +
20	Г +
21	Б +
22	А +
23	Б +
24	В +
25	В .
26	Г +
27	Б +
28	В .
29	Г +
30	Б +

$$27 + 26 = 53$$



